

Humor miesiąca



Matematyk nigdy nie będzie:
uczył czegokolwiek, co nie ma precyzyjnego dowodu,

- publikował czegokolwiek, co nie ma napisanego,
szczegółowego dowodu,

- przelewał wody w kąpeli

Cytat o matmie

Matematyk to ślepiec w ciemnym pokoju szukający czarnego kota, którego tam w ogóle nie ma.

Karol Darwin

Do zobaczenia w kolejnym numerze!



Z MATMĄ NA WESOŁO

gazetka dla uczniów

Szkoły Podstawowej im. Dzieci Zamojszczyzny w Machnowie Nowym
nr 4- marzec 2019

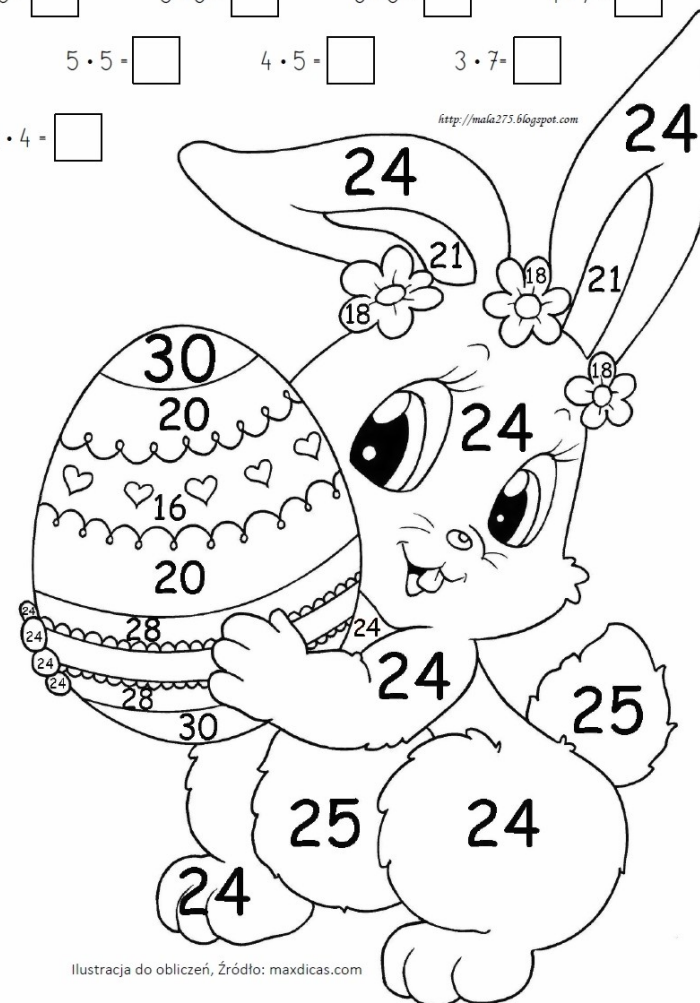
Oblicz działania. Dowolnym kolorem zamaluj kwadrat z wynikiem i pokoloruj obrazek.

$8 \cdot 3 = \square$ $5 \cdot 6 = \square$ $6 \cdot 3 = \square$ $4 \cdot 7 = \square$

$5 \cdot 5 = \square$ $4 \cdot 5 = \square$ $3 \cdot 7 = \square$

$4 \cdot 4 = \square$

<http://mala275.blogspot.com>



Ilustracja do obliczeń, Źródło: maxdicas.com

Zad.1 Rozwiąż działania

$$11 + 7 \cdot 2 =$$

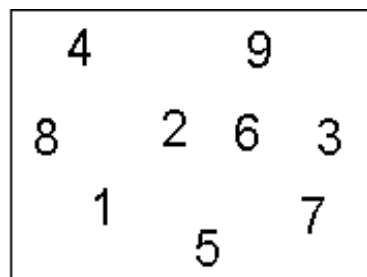
$$19 + 3 \cdot 5 =$$

$$25 + 2 \cdot 4 =$$

Zad.2 Ułóż działanie

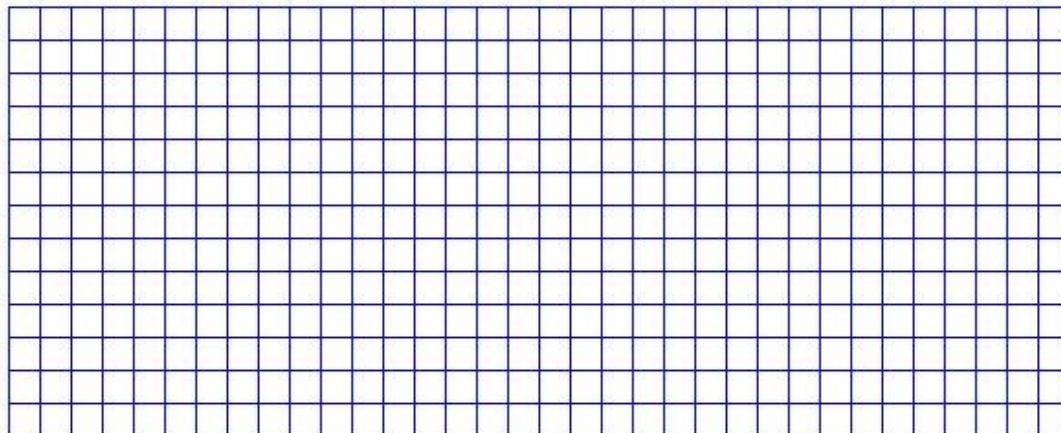
$$\square + \square + \square = \square$$

$$\square * \square * \square = \square$$



Zad. 3

Oblicz, ile czasu minęło od godziny **17:50** do godziny **20:50**.



Zad.4

Karolina ma 10 paczków. Pięć paczków oddała koleżance. Ile ma teraz paczków?